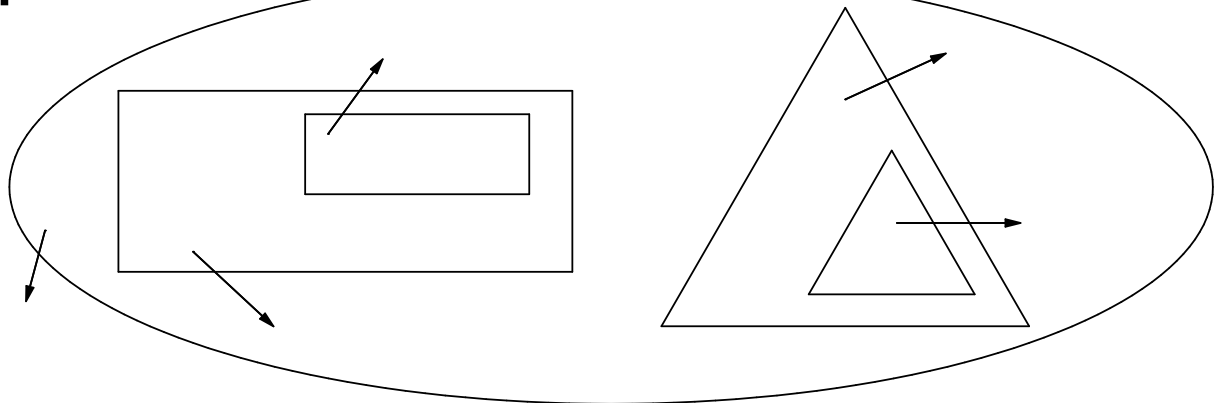
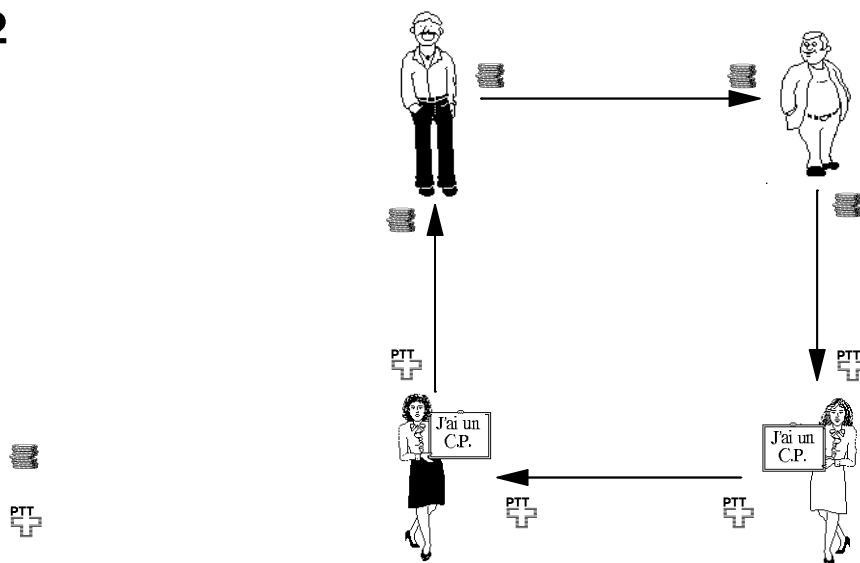


# 5 points à savoir par coeur

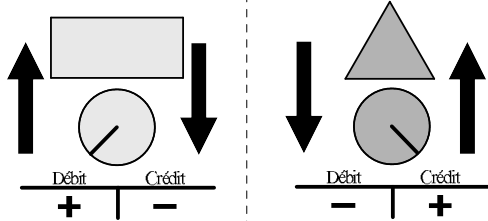
1



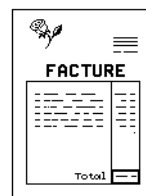
2



3



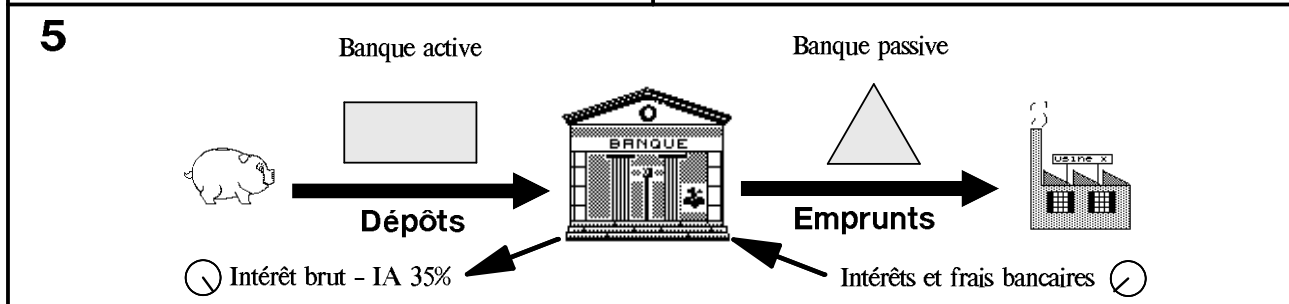
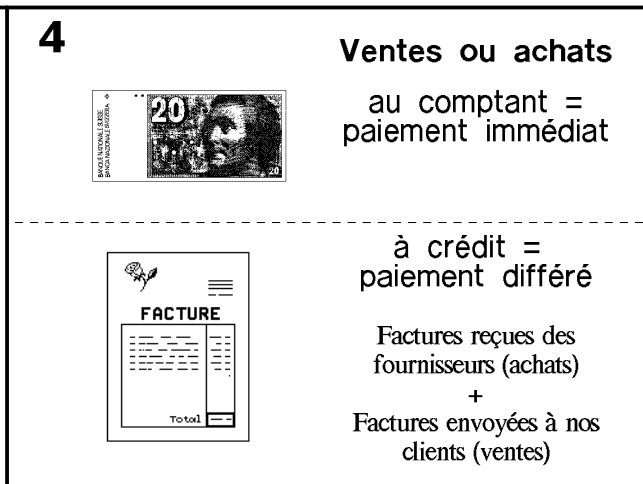
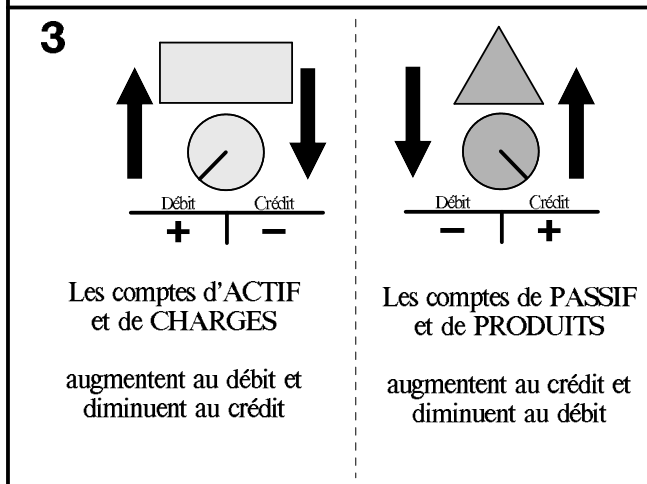
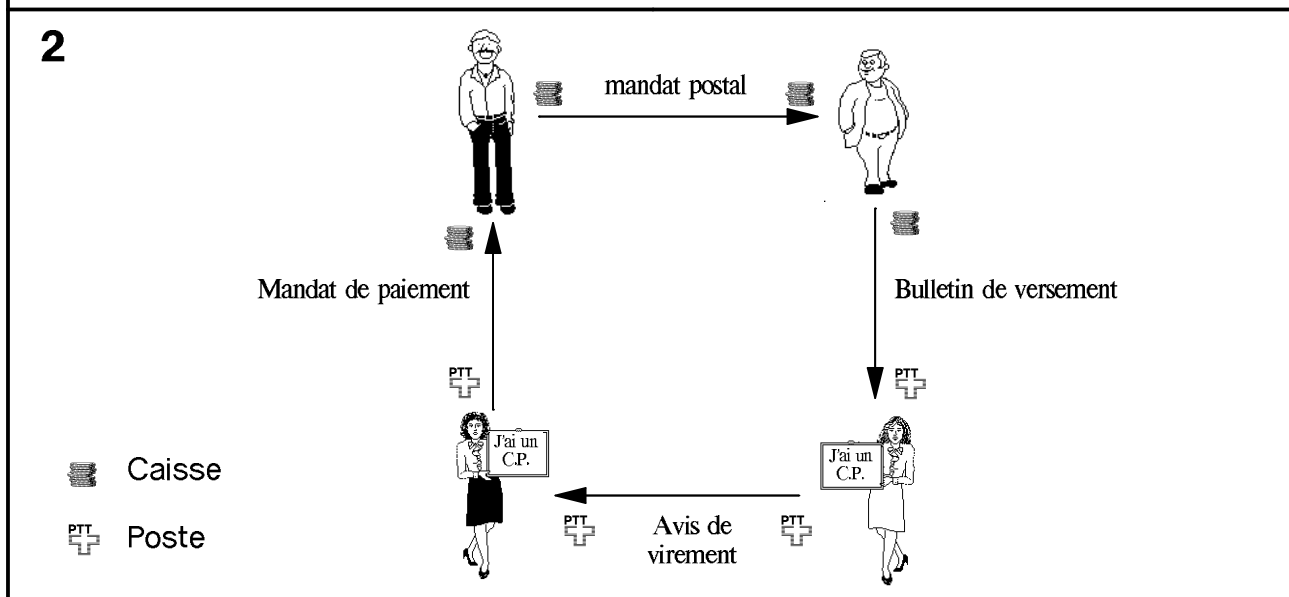
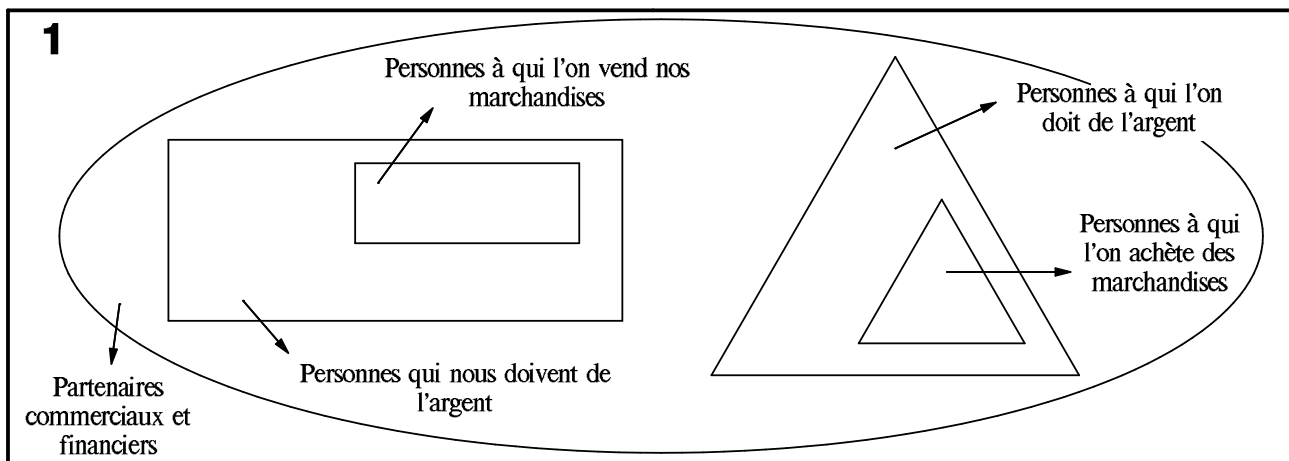
4



5



# 5 points à savoir par coeur



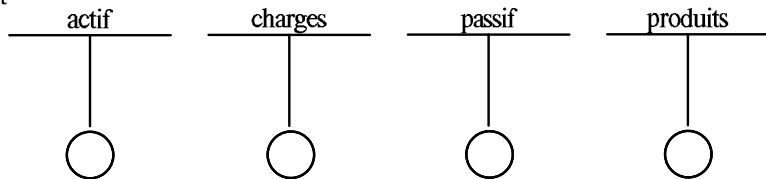
## Test d'évaluation

1. Je paie des marchandises achetées à Monsieur Balavoine avec l'argent que j'ai emprunté à Madame Foly et les revends à Mademoiselle Franklin qui les paie avec de l'argent que j'avais prêté à mon copain Vannelli.
- Qui est mon client ? .....
  - mon créancier ? .....
  - mon fournisseur ? .....
  - mon débiteur ? .....
  - Sur qui ai-je des créances ? .....
  - Qui a des créances sur moi ? .....

2. Journaliser les opérations suivantes :

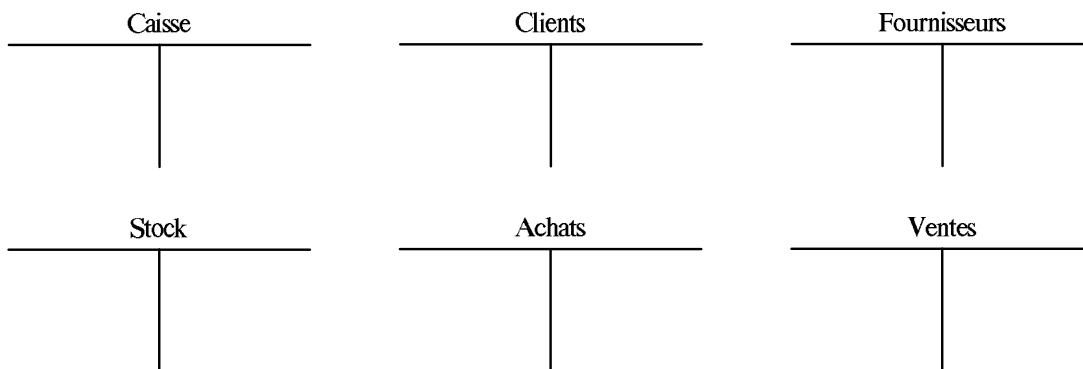
	à débiter	à créditer	libellé
<b>1</b>			Payé un fournisseur par mandat postal
<b>2</b>			Paiement d'un client par bulletin de versement
<b>3</b>			Remboursement d'un débiteur par virement postal
<b>4</b>			Remboursé un créancier par bulletin de versement
<b>5</b>			Versé un salaire par mandat de paiement
<b>6</b>			Remboursement de l'assurance par mandat postal
<b>7</b>			Payé l'électricité par virement postal
<b>8</b>			Un débiteur me rembourse par mandat de paiement

3. a) Indiquer par les signes + et - comment fonctionnent ces comptes.  
 b) Dessiner les symboles de Schmalenbach.  
 c) Placer dans les ronds la lettre S pour sources ou E pour emplois



4. Comptabiliser dans les comptes ci-dessous les opérations suivantes :

a) Achat de marchandises au comptant, brut 500.-, net 480.-.
b) Vente de marchandises à crédit brut à 30 jours fr. 800.- ou net à 10 jours fr. 750.-.
c) Le client règle par mandat postal dans les 10 jours.
d) Reçu la facture d'un fournisseur fr. 300.-.
e) Payé le fournisseur par bulletin de versement après déduction d'un rabais de 10% et d'un escompte de 3%.



5. Journaliser ces opérations en précisant l'état de la banque (IA 35%) :

	à débiter	à créditer	libellé	
<b>1</b>			Intérêt brut en ma faveur	200.-
<b>2</b>				
<b>3</b>			Intérêt brut en faveur de la banque	500.-
<b>4</b>				